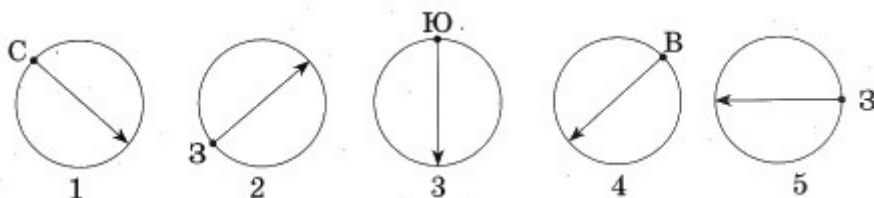


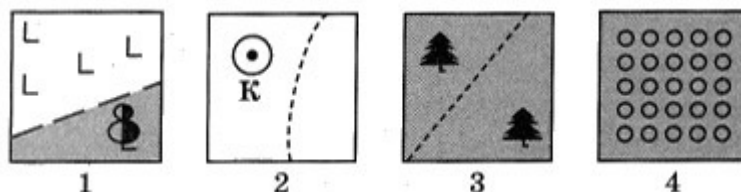
Тест по географии
План и карта
5 класс

1 вариант

1. Выберите правильные ответы. Отправляясь в пеший поход необходимо взять с собой
- А) географический атлас
 - Б) компас
 - В) план местности
 - Г) учебник
2. Определите направление сторон горизонта по схемам.



3. Назовите географические объекты, которые пересекает Гринвичский (нулевой) меридиан.
- А) Атлантический океан
 - Б) Южная Америка
 - В) Африка
 - Г) Тихий океан
4. Назовите географические объекты, которые пересекает экватор.
- А) Австралия
 - Б) Южная Америка
 - В) Индийский океан
 - Г) Северный Ледовитый океан
5. Точка пересечения параллели и меридиана называется
- А) градусная сетка
 - Б) азимут
 - В) географическая координата
6. Продолжите выражение.
Часовые пояса Земли отсчитывают от _____.
7. Установите соответствие между условными знаками и объектами, которые они обозначают.
- А) фруктовый сад
 - Б) тропинка через хвойный лес
 - В) тропинка между вырубкой и лиственным лесом
 - Г) колодец около тропинки



Запишите выбранные цифры под соответствующими буквами.

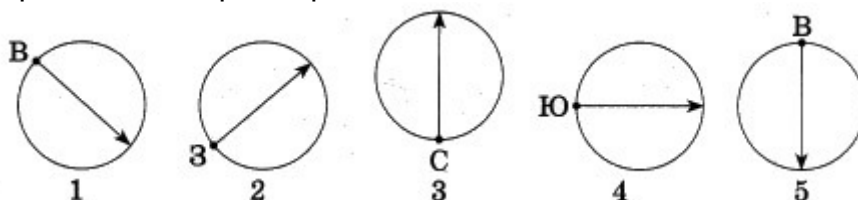
8. На одном и том же плане численный, именованный и линейный масштабы показывают уменьшение
- А) разное
 - Б) одинаковое
9. Переведите численный масштаб в именованный.
- А) 1 : 200 000
 - Б) 1 : 2 000 000
 - В) 1 : 2000
10. Установите последовательность измерения расстояний с помощью масштаба.
- А) умножить расстояние между заданными объектами на именованный масштаб
 - Б) измерить отрезок с помощью линейки
 - В) перевести численный масштаб в именованный
 - Г) найти на плане (карте) заданные объекты

Тест по географии
План и карта
5 класс

2 вариант

1. Выберите правильные ответы. Для ориентирования на местности необходимо иметь
- А) компас
 - Б) учебник
 - В) географический атлас
 - Г) план местности

2. Определите направление сторон горизонта по схемам.



3. Назовите географические объекты, которые пересекает Гринвичский (нулевой) меридиан.
- А) Антарктида
 - Б) Индийский океан
 - В) Евразия
 - Г) Тихий океан

4. Назовите географические объекты, которые пересекает экватор.

- А) Евразия
- Б) Африка
- В) Тихий океан
- Г) Северный Ледовитый океан

5. Точка пересечения параллели и меридиана называется

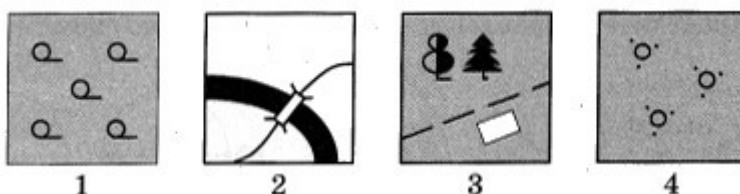
- А) сторона горизонта
- Б) географическая координата
- В) градусная сетка

6. Продолжите выражение.

Нулевой меридиан также принято называть по месту его прохождения — _____.

7. Установите соответствие между условными знаками и объектами, которые они обозначают.

- А) тропинка в смешанном лесу, дом
- Б) редколесье
- В) просёлочная дорога и мост через реку
- Г) кустарник



Запишите выбранные цифры под соответствующими буквами.

8. На одной и той же карте численный, именованный и линейный масштабы показывают уменьшение

- А) разное
- Б) одинаковое

9. Переведите численный масштаб в именованный.

- А) 1 : 2000
- Б) 1 : 2 000 000
- В) 1 : 20 000

10. Установите последовательность измерения расстояний с помощью масштаба.

- А) перевести численный масштаб в именованный
- Б) умножить расстояние между заданными объектами на именованный масштаб
- В) измерить отрезок с помощью линейки
- Г) найти на плане (карте) заданные объекты

*Ответы на тест по географии
План и карта
5 класс*

1 вариант

1. БВ
2. 1Ю 2В 3С 4З 5В
3. АВ
4. БВ
5. В
6. От Гринвичского (нулевого) меридиана
7. А4 Б3 В1 Г2
8. Б
9.
А) в 1 см — 2км
Б) в 1 см — 20 км
В) в 1 см — 20 м
10. ГБВА

2 вариант

1. АГ
2. 1З 2В 3Ю 4С 5З
3. АВ
4. БВ
5. Б
6. Гринвичский
7. А3 Б1 В2 Г4
8. Б
9.
А) в 1 см — 20 м
Б) в 1 см — 20 км
В) в 1 см — 200 м
10. ГВАБ